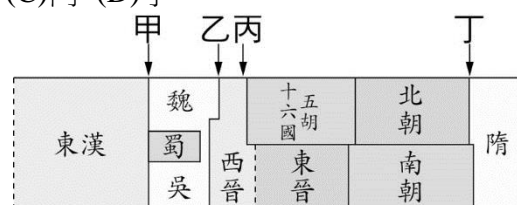


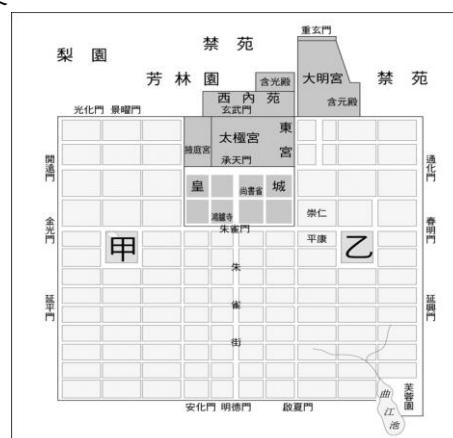
一、選擇題（每題 2 分，共 80 分）

- 隋文帝勤於政事，使百姓得以休養生息，奠定國家富強基礎，締造隋唐帝國的第一個盛世。請問：此盛世稱為下列何者？ (A)開元之治 (B)開皇之治 (C)貞觀之治 (D)文景之治。
- 「六朝文物草連空，天淡雲閑今古同。鳥去鳥來山色裡，人歌人哭水聲中……」這是唐朝詩人杜牧的詩句，是在感嘆天淡雲閑古今依舊，六朝遺跡卻難以追尋，昔日繁華盡付煙雨之中。請問：關於「六朝」之敘述，下列何者「錯誤」？ (A)政治發展較北方由胡人所建立的國家安定 (B)最後一個朝代為隋所滅，造成「六朝文物草連空」 (C)對歷史的最大貢獻在開發長江流域 (D)三國中的蜀漢也是六朝之一。
- 隋唐時期，佛教在中國傳布更廣，可說是達於鼎盛。請問：下列有關佛教在隋唐時期的發展情形，何者敘述「錯誤」？ (A)此時出現大型的佛教石窟藝術，如雲岡石窟、龍門石窟等 (B)玄奘前往天竺取經，回國後翻譯佛經 (C)此時佛教融合中國思想文化，佛教中國化 (D)此時佛教宗派林立，其中以禪宗最著名。
- 魏晉南北朝時，中國的門第社會牢不可破，出現「上品無寒門，下品無世族」的社會現象，請問：造成此現象的原因為何？ (A)玄學思想的流行 (B)胡人政權的建立 (C)九品官人法的實施 (D)漢化政策的推動。
- 白居易的〈長恨歌〉中提到：「楊家有女初長成，養在深閨人未識。天生麗質難自棄，一朝選在君王側……漁陽鼙鼓動地來，驚破霓裳羽衣曲……。」詩中描述唐玄宗因寵愛楊貴妃而縱情享樂，不理朝政，最後引發了哪一場亂事？ (A)安史之亂 (B)黃巢之亂 (C)永嘉之禍 (D)八王之亂。
- 「竹林七賢」作為魏晉南北朝時期士人的代表，用下面哪一句話來描述他們最為合適？ (A)追求自然，反抗禮教 (B)以國家興亡為己任 (C)積極進取，溫文儒雅 (D)嚴以律己，實事求是。
- 唐太宗時，文成公主因與哪個民族的君王和親，而將中國農業技術、醫藥典籍和宗教等傳入當地，有助於雙方的文化交流？ (A)新羅 (B)吐蕃 (C)突厥 (D)日本。
- 永嘉之禍後中國陷入長期分裂的局面，南方與北方的歷史因而各自發展。請問：關於五胡十六國的敘述，下列何者正確？ (A)「五胡」是指匈奴、突厥、氐、羌、羯 (B)利用東晉內亂、國勢衰微而興起 (C)十六國的建國者均為胡人 (D)實際上在北方建國者超過十六個。
- 唐朝的國內與海外貿易非常發達，生意人至全國各地進行買賣，外商來華亦絡繹不絕。小君與同學討論唐代的經濟與社會風貌，下列何人的說法「錯誤」？ (A)小君：在唐代，長江流域是帝國的經濟重心 (B)小玲：在唐代，來中國貿易的外國商人以阿拉伯人為主 (C)小恩：在唐代，長安西市可以買到燒餅、葡萄酒等胡食 (D)小平：在唐代，廣州設有巡檢司，負責管理海外貿易。
- 小君、小玲、小恩討論關於西晉與東晉的歷史，小君說：「西晉立國在長江流域；東晉在黃河流域。」小玲說：「西晉的開國君主是司馬炎，東晉是司馬睿。」小恩說：「西晉和東晉都是被權臣篡位而滅亡。」請問：她們三人之中，有幾人的說法是正確的？ (A)0 人 (B)1 人 (C)2 人 (D)3 人。

- 唐代兼容並蓄，能包容來自不同地區的文化，如果我們想了解唐代文化中的「胡風」，下列何者能提供最寫實的參考？ (A)唐三彩 (B)兵馬俑 (C)龍門石窟 (D)玄秘塔碑。
- 老師在黑板上寫下幾位歷史人物—嬴政、司馬炎、楊堅，並請同學們找出這些人的共同點，請問：下列何者的說法正確？ (A)都是以權臣角色奪得帝位的人 (B)都是結束中國分裂局勢的人 (C)都是好大喜功導致政權快速滅亡的人 (D)他們建立的政權最後都亡於外族手中。
- 唐太宗對魏徵的死感到悲痛，說道：「以銅為鏡可以正衣冠，以古為鏡可以知興替，以人為鏡可以明得失。」請問：由此可看出唐太宗施政有何項優點？ (A)向外擴張，稱「天可汗」 (B)重用賢臣，虛心納諫 (C)輕徭薄賦，崇尚節儉 (D)整飭吏治，嚴懲貪官。
- 永嘉之禍是中國歷史上的重要事件，因為國力的內耗，讓境內胡人有機可趁，造成國家的滅亡。請問：這個事件應該發生於附圖中的哪個時間點？ (A)甲 (B)乙 (C)丙 (D)丁。



- 下圖為中國古代某座城市的平面圖，關於這座城市的敘述，下列何者「錯誤」？ (A)此城為隋文帝時所營建 (B)此城是中國最早經過城市設計而興建的都城，為坊市分離 (C)圖中的「甲」「乙」屬於商業區，沒有營業時間限制 (D)格局方正成為典範，日本京都即仿效此城建設。



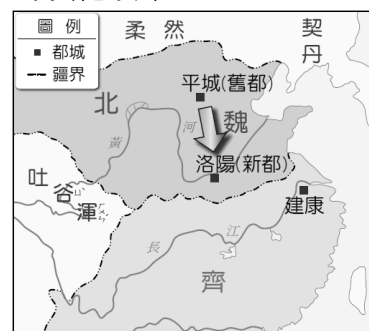
- 佛教與道教在中國皆有悠久的發展歷史，有關兩者的比較，下列何者「錯誤」？ (A)佛教起源於天竺，道教創立於中國 (B)道教創立時間早於佛教傳入中國 (C)兩者皆興盛於魏晉南北朝時期 (D)佛教由上層階級傳至民間百姓，道教則由民間信仰傳入統治階層。
- 「這個國家有『君子國』之稱，此名稱的由來是因為此國家大量學習唐朝的文化和制度，當時中國的文字、儒學、宗教、律令等都是其仿效的內容。」請問：這段話描述的應該是哪個國家？ (A)日本 (B)吐蕃 (C)新羅 (D)大食。
- 魏國皇帝曹髦曾說：「司馬昭之心，路人皆知也！吾不能坐受廢辱，今日當與卿等自出討之。」請問：關於上述史事的時代背景，下列敘述何者正確？ (A)魏國的建國者是魏文帝曹操 (B)魏國為司馬昭所篡，改國號「晉」 (C)魏國是三國中最後滅亡的國家 (D)西晉是魏晉南北朝三百多年分裂中唯一統一的政權。

19. 中國的科舉制度實施了一千多年，因此有民間有「十年寒窗無人問，一舉成名天下知」的說法。請問：關於科舉制度的實施與影響，下列敘述何者「錯誤」？
(A) 唐代開始實施科舉制度 (B) 科舉實施的背景是為了改革九品官人法的弊端 (C) 科舉使平民百姓任官機會大增 (D) 科舉制度一直沿用到清末。
20. 歷史老師講完魏晉南北朝的歷史後，要同學以簡單的幾句話表達這個時期的社會特色。甲生：「貴族沒落，平民崛起。」乙生：「萬般皆下品，唯有讀書高。」丙生：「世族社會，門第觀念很深。」丁生：「社會動亂，宗教活動興盛。」上述哪幾位同學的說法較為正確？
(A) 甲乙 (B) 乙丙丁 (C) 乙丙 (D) 丙丁。
21. 唐朝中期以後，國家局勢逐漸趨於衰微，有關唐朝國勢衰微的原因，下列何者「錯誤」？
(A) 皇帝早逝幼主即位，造成外戚干政 (B) 朝中大臣結黨營私，引發黨爭，政局動盪不安 (C) 地方藩鎮勢力坐大，中央政府難以掌控 (D) 內廷宦官掌握大權，操縱皇帝廢立。
22. 有關魏晉南北朝時期「清談」的敘述，下列何者正確？
(A) 興起的背景是因為漢武帝「獨尊儒術」 (B) 是一種拋棄現實，崇尚玄理的談論 (C) 談論內容以《老子》、《莊子》、《詩經》為主，合稱「三玄」 (D) 受儒家思想影響，稱為「玄學」。
23. 關於唐朝兩大亂事—安史之亂與黃巢之亂的比較，下列敘述何者「錯誤」？
(A) 安史之亂是將領叛亂，黃巢之亂是民變 (B) 安史之亂由郭子儀平定，黃巢之亂由朱溫平定 (C) 安史之亂使唐朝由盛轉衰，黃巢之亂使唐朝快速滅亡 (D) 兩者皆破壞江南經濟重心。
24. 小君比較北魏時興建的山西雲岡石窟和洛陽龍門石窟，發現雲岡石窟佛像身體壯碩、輪廓較深，長的像胡人；龍門石窟中的佛像清秀纖細，衣著也與漢人相近。請問：造成佛像風格不同的原因可能為何？
(A) 發生永嘉之禍，漢人對胡人心生畏懼 (B) 佛教受玄學影響，教義產生改變 (C) 受當時皇帝推動漢化政策的影響 (D) 受到北魏政權分裂的影響。
25. 天寶年間，中國與大食發生戰爭，中國戰敗，被俘虜的士兵中有許多工匠，中國的某項技術因此傳入西方。請問：關於這段文字內容的解釋，下列何者「錯誤」？
(A) 這場戰爭發生在唐玄宗年間 (B) 大食是指阿拉伯帝國 (C) 某項技術應是印刷術 (D) 這個戰役是怛羅斯之役。
26. 小君正在玩以三國時期為背景的線上遊戲，遊戲開始時她選擇了附圖的角色。請問：根據人物介紹來看，她選擇的角色應為下列何人？
(A) 曹丕 (B) 劉備 (C) 孫權 (D) 曹操。



27. 小玲、小恩在討論隋朝快速覆亡的原因。小玲：「隋煬帝三次興兵征伐□□，結果卻無功而返，使國勢大受打擊。」小恩：「隋煬帝喜好遊樂，多次巡幸江南地區，勞民傷財，引發人民不滿。」請問：小玲說的□□，應填入下列何者？
(A) 突厥 (B) 匈奴 (C) 高麗 (D) 大食。
28. 歷史老師在介紹一位歷史人物時說：「這位君主勤於政務，孜孜不怠，……不飲酒，不聽樂……篤信佛法，以持佛戒，三度捨身同泰寺，多造佛廟……。」請問：老師正在講解哪一位人物？
(A) 唐玄宗 (B) 晉武帝 (C) 梁武帝 (D) 北魏孝文帝。

29. 玄武門是長安宮城的北門，它是宮廷衛軍司令部的所在地，有堅強的工事和雄厚的兵力，故控制了玄武門便可以控制整個皇宮，所以玄武門的地位十分重要。請問：歷史上何人曾在玄武門發動政變，進而奪得皇位？
(A) 唐高祖 (B) 唐玄宗 (C) 武則天 (D) 唐太宗。
30. 魏晉南北朝時期有許多篡位的君主，關於這些君主的敘述，下列有幾項敘述正確？
(甲) 東漢為曹丕所篡 (乙) 北周為楊堅所篡 (丙) 東晉為劉裕所篡 (丁) 曹魏為司馬炎所篡。
(A) 1 項 (B) 2 項 (C) 3 項 (D) 4 項。
31. 唐代時有許多宗教藉由絲路貿易傳入中國，並且能為唐人所接受、信仰。請問：下列哪個宗教「不是」在唐代傳入中國的？
(A) 佛教 (B) 摩尼教 (C) 伊斯蘭教 (D) 景教。
32. 歷史老師在課堂上拿出一幅地圖，如下圖。請問：由地圖中的資訊判斷，老師講述的內容最可能是下列何者？
(A) 赤壁之戰 (B) 永嘉之禍 (C) 經濟重心的南移 (D) 胡人的漢化政策。



33. 唐朝滅亡之後，中國進入五代十國的分裂階段。請問：五代十國的分立情況，是唐朝末年哪個現象的延續？
(A) 藩鎮割據 (B) 宦官亂政 (C) 人民叛亂 (D) 牛李黨爭。
34. 西周行封建制度，周成王年幼繼位，由周公輔佐，便引發地方諸侯起兵的「管蔡之亂」。請問：下列哪場亂事與「管蔡之亂」的背景與性質最為接近？
(A) 黃巢之亂 (B) 八王之亂 (C) 安史之亂 (D) 永嘉之禍。
35. 唐初以來，西北各族紛紛遣使入貢，並擁戴唐朝君主為「天可汗」，唐朝的聲威遠播，成為東亞地區的國際盟主。請問：唐朝皇帝成為「天可汗」的原因為何？
(A) 中國結束長達三百多年的分裂局面 (B) 擊敗東突厥 (C) 打敗匈奴，輾轉滅掉羅馬帝國 (D) 怛羅斯之役大勝大食軍隊。
36. 小君看到一本書上寫著：「這個時期因為貿易範圍擴大，許多商人必須攜帶大量的銅錢到遠地進行貿易，十分不便，因此發明了飛錢。」請問：書上描述的應該是哪個朝代的現象？
(A) 漢代 (B) 魏晉南北朝 (C) 唐代 (D) 五代十國。
37. 道教是臺灣人重要的宗教信仰，每年都有重要的慶典活動舉行。請問：關於道教的敘述，下列何者「錯誤」？
(A) 東漢末年，張角利用太平道吸引民眾，發起黃巾之亂 (B) 張陵的五斗米道又稱天師道 (C) 道教以治病消災為傳教手段，廣受民眾歡迎 (D) 魏晉南北朝時，道教吸收儒家思想，成為北魏的國教。
38. 小君要練習寫書法，想以唐朝書法家的楷書拓本作為她臨摹的對象。請問：她可以去找哪些書法家的字帖？
(A) 李白、杜甫 (B) 王維、王羲之 (C) 顏真卿、柳公權 (D) 玄奘、智永。
39. 日本文化深受中國文化的影響，唐朝時曾大量學習中國的制度。請問：關於日本唐化運動的敘述，下列何者「錯誤」？
(A) 日本多次派「遣唐使」至中國 (B) 日本的學生與僧侶學習唐朝的律令、制度與佛法 (C) 日本的文字是源於中國的漢字 (D) 日本天皇於七世紀推行的唐化運動，史稱「明治維新」。

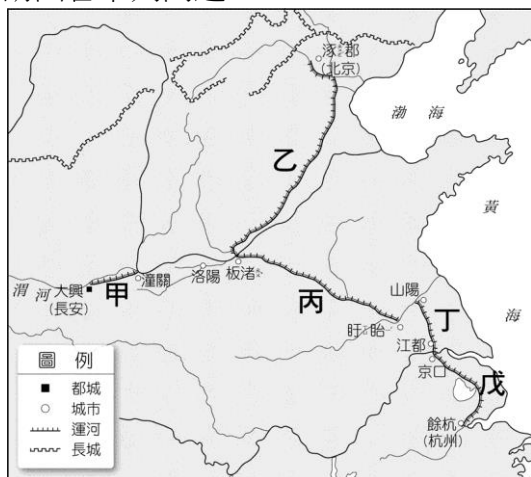
- 40.收藏於陝西西安碑林博物館的「大秦景教流行中國碑」，是見證景教在中國傳播的重要文物。請問：下列敘述何者「錯誤」？ (A)「大秦」指的是阿拉伯帝國 (B)景教是基督教的一支 (C)此碑豎立的時期應為唐朝 (D)當時傳入中國的宗教尚有伊斯蘭教與摩尼教。

二、素養導向題（每題 2 分，共 20 分）

(一)《資治通鑑》：「……與曹操遇於○○。時操軍眾已有疾疫，初一交戰，操軍不利，……。瑜等在南岸，瑜部將黃蓋曰：「今寇眾我寡，難與持久。操軍方連船艦，首尾相接，可燒而走也。」乃取蒙沖鬥艦十艘，載燥荻、枯柴、灌油其中，裹以帷幕，上建旌旗，……。先以書遺操，詐雲欲降。時東南風急，蓋以十艦最著前，中江舉帆，餘船以次俱進。操軍吏士皆出營立觀，指言蓋降。去北軍二里餘，同時發火，火烈風猛，船往如箭，燒盡北船，延及岸上營落。頃之，煙炎張天，人馬燒溺死者甚眾。瑜等率輕銳繼其後，雷鼓大進，北軍大壞。操引軍從華容道步走，遇泥濘，道不通，天又大風，悉使羸兵負草填之，騎乃得過。羸兵為人馬所蹈藉，陷泥中，死者甚眾。劉備、周瑜水陸並進，追操至南郡。時操軍兼以饑疫，死者太半。操乃留征南將軍曹仁、橫野將軍徐晃守江陵，折衝將軍樂進守襄陽，引軍北還。」請回答下列問題：

- 41.上文中所描述的是下列哪一事件的經過？ (A)赤壁之戰 (B)黃巾之亂 (C)永嘉之禍 (D)八王之亂。
42.上述這起事件，對中國當時局勢的影響為何？(A)東漢因此滅亡 (B)三國鼎立之勢形成 (C)中國境內胡人趁機叛亂 (D)三國時代結束。

(二)張興是隋朝人，在政府軍中擔任軍官，某年朝廷命令他率軍自洛陽前往高麗攻擊敵軍，他因戰功而升為將官。回首都後，皇帝要求他防守東邊的潼關，他走水路到達駐地。數年後，皇帝要求他率軍隨侍，保護皇上自洛陽乘船到餘杭。請回答下列問題：



- 43.張興自洛陽前往高麗作戰時，會經過下列哪一條運河？ (A)廣通渠 (B)通濟渠 (C)永濟渠 (D)邗溝。
44.張興從首都前往潼關防守時，會經過下列哪一條運河？(A)永濟渠 (B)廣通渠 (C)江南河 (D)通濟渠。
45.張興隨侍皇上從洛陽到餘杭途中，依序會經過哪些運河？(甲)永濟渠(乙)廣通渠(丙)江南河(丁)通濟渠(戊)邗溝 (A)甲丙戊 (B)乙戊丙 (C)丙乙戊 (D)丁戊丙。

(三)《三國演義》：「彝陵之戰，陸遜大獲全功，往西追襲劉備。在夔關魚腹浦，誤入諸葛亮所遺石陣（八陣圖）。石陣殺氣冲天，陸遜等急欲回馬，卻用在陣中無路可出。幸得諸葛亮岳父黃承彥將他引出石陣。陸遜損失慘重，方知天外有天，懼魏襲吳，不敢深入西川……。」請回答下列問題：



- 46.上文中所描述，佈下八陣圖困住吳將陸遜的諸葛亮是哪一國的丞相？(A)東漢 (B)蜀漢 (C)曹魏 (D)孫吳。
47.三國立國的先後順序為何？(A)甲→乙→丙 (B)甲→丙→乙 (C)乙→丙→甲 (D)丙→甲→乙。
48.三國亡國的先後順序為何？(A)甲→乙→丙 (B)乙→丙→甲 (C)丙→甲→乙 (D)丙→乙→甲。
49.司馬氏原為某一國家的大臣，後來逐漸掌握朝政，最後篡位自立。請問：圖中哪些國家亡於司馬炎之手？(A)甲乙 (B)甲丙 (C)乙丙 (D)乙。
50.三國鼎立時期介於哪兩個朝代之間？ (A)東漢、西晉 (B)東漢、東晉 (C)西晉、東晉 (D)東晉、南朝。